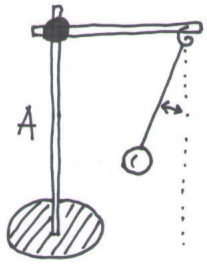
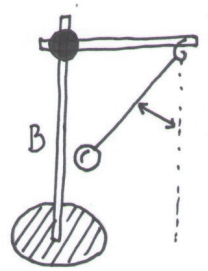
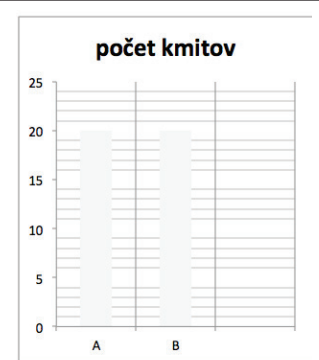


Úloha 6

Závisí rýchlosť kývania kyvadla od toho, z akej výšky kyvadlo spúšťame? Označte predpoklad, s ktorým súhlasíte. Predpoklad si overte a výsledok zaznamenajte.

Predpoklady		
	Myslím si, že kyvadlo sa bude kývať rýchlejšie, keď ho spustím z menšej výšky.	
	Myslím si, že kyvadlo sa bude kývať rýchlejšie, keď ho spustím z väčšej výšky.	
	Myslím si, že obe kyvadlá sa budú kývať rovnako rýchlo.	
 <p>Počet kmitov:</p>	 <p>Počet kmitov:</p>	
<p>Zhodnotenie predpokladov a odpoveď na výskumnú otázku:</p>		