





Úloha 8

Ako vystreliť predmet, aby dopadol čo najneskôr? Pozorujte uvedené štyri spôsoby vystrelenia polystyrénovej gule z praku a uveďte poradie, v akom dopadnú gule vystrelené z prakov. Označte číslami 1 až 4 poradie.

A		B		C		D	
							
Predpoklad		Predpoklad		Predpoklad		Predpoklad	
Overenie		Overenie		Overenie		Overenie	
Záver:							