







## Úloha 19

Zistite, či ten istý magnet pritiahne tú istú spinku z rovnakej vzdialenosti, ak sa spinka pohybuje po rôznych povrchoch. Meranie pre každú spinku opakujte trikrát. Z pozorovania vytvorte záver. Čo spôsobilo zistené rozdiely?

Po papieri 													

Po flíse 													

Po plastelíne 													

**Záver: Aké rozdiely ste zistili? Čo tieto rozdiely spôsobilo?**