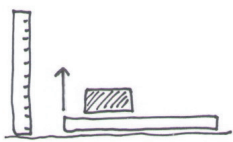
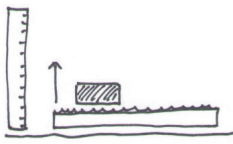
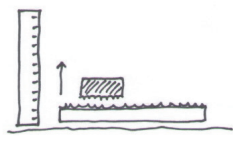


## Úloha 25

Závisí veľkosť trecej sily od povrchu, po ktorom sa predmet kĺže?

Pohyb po rôzne drsnom povrchu	Meranie 1	Meranie 2	Meranie 3
Predmet na hladkej doske 			
Predmet na doske pokrytej látkou 			
Predmet obalený látkou na doske pokrytej látkou 			
<b>Záver:</b>			