


Úloha 11

Popremýšľajte, čo sa podľa vás stane s pohárom s teplou a studenou vodou, ak ho prikryjeme druhým pohárom. Svoje predpoklady zakreslite/zapíšte do obrázkov:



5. Zloženie Zeme a jej atmosféry; procesy, ktoré ovplyvňujú povrch Zeme a jej klímu

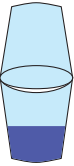
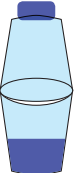
Zakreslite/zapíšte zmeny, ktoré nastali na položenom pohári pri rôznych teplotách vody. Následne sa pokúste vytvoriť záver vášho skúmania:

	Zmeny na pohári:
Voda s ľadom	
Horúca voda	
Voda izbovej teploty	

5. Zloženie Zeme a jej atmosféry; procesy, ktoré ovplyvňujú povrch Zeme a jej klímu

Pokúste sa napísať záver toho, čo ste zistili svojim skúmaním:

Popremýšľajte, čo sa podľa vás stane s pohárom s horúcou vodou, ak ho prikryjeme druhým pohárom a na jeden z nich umiestnite kocku ľadu. Svoje predpoklady zakreslite/zapíšte do obrázkov a následne overte:

	Zmeny na pohári:	
	Predpoklad	Overenie
		
		

Pokúste sa napísať záver toho, čo ste zistili svojim skúmaním: