









Úloha 5

Od čoho závisí, či dva predmety uložené na dvoch opačných stranách hoidačky budú v rovnováhe alebo nie?

Všetky poháre sú rovnaké veľké, ale sú buď plné, alebo poloprázdne. Vytvorte predpoklad o tom, kedy bude hoidačka vyrovnaná. Potom predpoklady overte a výsledok sformulujte do záveru.

	Predpoklad		Predpoklad
	Overenie		Overenie
	Predpoklad		Predpoklad
	Overenie		Overenie
	Predpoklad		Predpoklad
	Overenie		Overenie
	Predpoklad		Predpoklad
	Overenie		Overenie
<p>Záver:</p>			