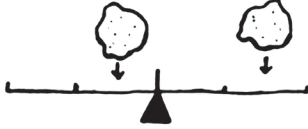
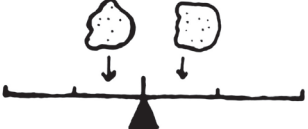




Úloha 6

Máte dve hrudy plastelíny podobnej veľkosti a neviete určiť, ktorá z nich je väčšia. Na zistenie ste sa rozhodli použiť hojdačku. Ktoré z uvedených spôsobov polozenia plastelíny na hojdačku vám umožní zistiť, ktorá z dvoch hrúd je väčšia?

	Predpoklad		Predpoklad
	Overenie		Overenie
	Predpoklad		Predpoklad
	Overenie		Overenie