
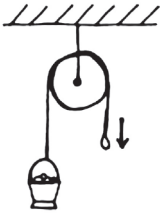
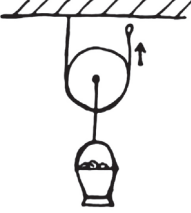
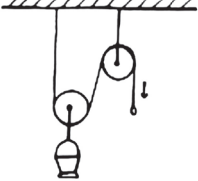
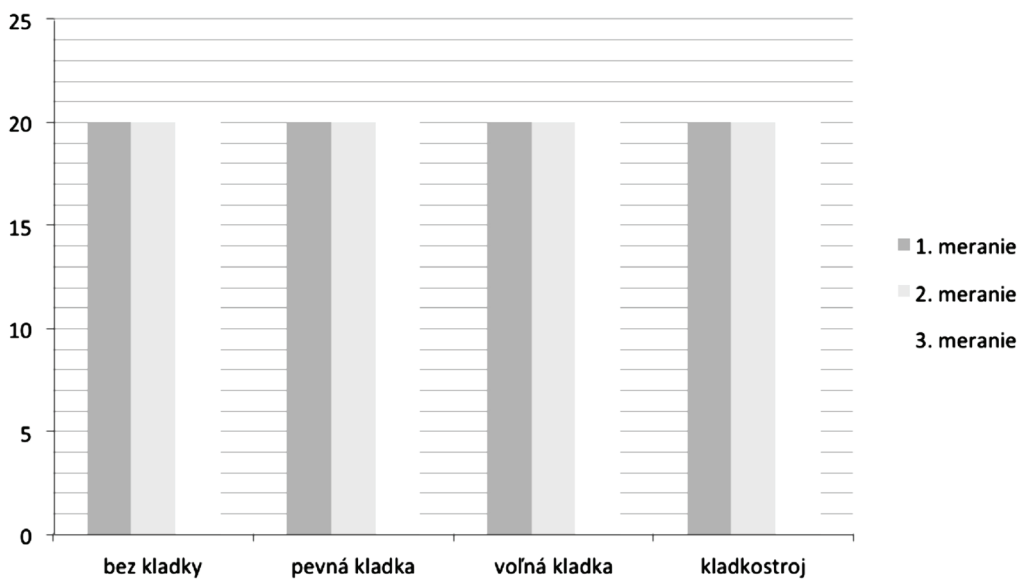


Úloha 10

Kombináciou pevnej a voľnej kladky získame kladkostroj. Skonstruujte kladky a kladkostroj podľa návodu a zaznamenajte, akou silou musíte pôsobiť, aby ste vytiahli rovnaký náklad. Cieľom záveru je zhodnotiť, kedy je vyťahovanie nákladu najjednoduchšie.

							
Hodnota na silomere							
1. meranie:		1. meranie:		1. meranie:		1. meranie:	
2. meranie:		2. meranie:		2. meranie:		2. meranie:	
3. meranie:		3. meranie:		3. meranie:		3. meranie:	

Údaje preneste do grafu:



Záver a odpoveď na výskumnú otázku: