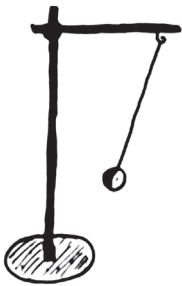
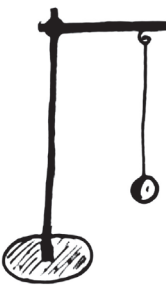
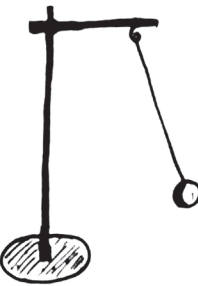


Úloha 2

Pozorujte pohyb kyvadla a rovnako ako v predchádzajúcej úlohe nakreslite, ktorým smerom pôsobí sila, ktorá spôsobuje pohyb kyvadla. Pokúste sa ju aj pomenovať.

		
Aká sila spôsobuje, že sa kyvadlo hýbe?		
Aká sila spôsobuje zrýchľovanie pohybu?		
Aká sila spôsobuje spomaľovanie pohybu?		