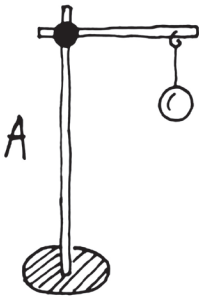
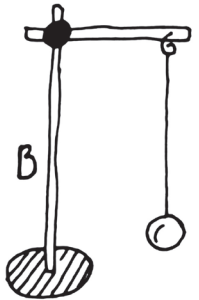
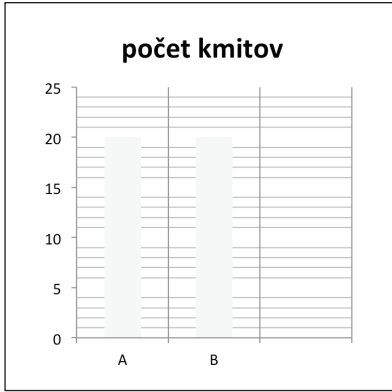


Úloha 3a

Závisí rýchlosť kývania kyvadla od toho, na akom dlhom špagáte je kyvadlo zavesené? Označte predpoklad, s ktorým súhlasíte. Predpoklad si overte a výsledok zaznamenajte.

Predpoklady								
	Myslím si, že obe kyvadlá sa budú kývať rovnako rýchlo.							
	Myslím si, že kyvadlo sa bude kývať rýchlejšie, keď bude na dlhšom špagáte.							
	Myslím si, že kyvadlo sa bude kývať rýchlejšie, keď bude na kratšom špagáte.							
 <p>A</p> <p>Počet kmitov:</p>	 <p>B</p> <p>Počet kmitov:</p>	 <p>počet kmitov</p> <table border="1"> <caption>Data from bar chart: počet kmitov</caption> <thead> <tr> <th>Label</th> <th>Count</th> </tr> </thead> <tbody> <tr> <td>A</td> <td>20</td> </tr> <tr> <td>B</td> <td>20</td> </tr> </tbody> </table>	Label	Count	A	20	B	20
Label	Count							
A	20							
B	20							
<p>Zhodnotenie predpokladov a odpoveď na výskumnú otázku:</p>								