





Úloha 9

Ako vystreliť predmet, aby dopadol čo najďalej? Pozorujte uvedené štyri spôsoby vystrelenia polystyrénovej gule a uveďte poradie, v akom dopadnú gule vystrelené z prakov od čo najväčšej (4) po najmenšiu (1) vzdialenosť od miesta vystrelenia.

A		B		C		D	
							
Predpoklad		Predpoklad		Predpoklad		Predpoklad	
Overenie		Overenie		Overenie		Overenie	
Záver:							