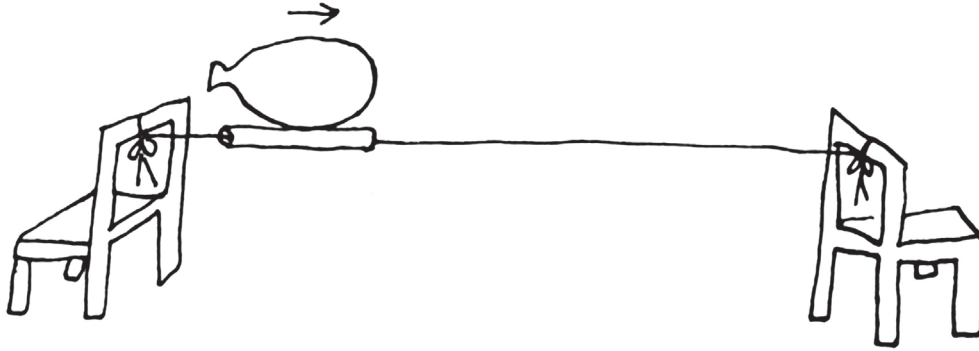
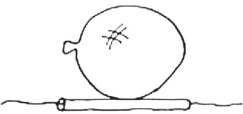









Úloha 16

Skúmajte, ako sa pomocou unikajúceho vzduchu pohybuje balón. Pomenujte silu, ktorá spôsobuje pohyb balóna. Sily pôsobiace na balón zanačte do obrázka.



Skúmajte, kedy balón prejde najväčšiu vzdialenosť.

| Veľkosť balóna | Tvar balóna | Hrúbka špagátu | Hrúbka slamky |
|-------------------------------------------------------------------------------------|-------------------------------------------------------------------------------------|-------------------------------------------------------------------------------------|--------------------------------------------------------------------------------------|
|  |  |  |  |
|  |  |  |  |
| Záver: | | | |