





Úloha 18

Zistíte, či ten istý magnet pritiahne rôzne veľké spinky z tej istej vzdialenosti. Meranie pre každú spinku opakujte trikrát. Z pozorovania vytvorte záver.

Záver: