






### Úloha 23

Závisí veľkosť trecej sily od hmotnosti predmetu? Pozorujte, ako sa správajú rôzne ťažké, ale rovnako veľké predmety, ak postupne meníme vodorovný povrch na šikmý. Odmerajte, v akej výške sa predmet pohne a začne sa posúvať dolu.

				
<p>Lahký predmet – prázdna nádoba</p>				
<p>Ťažší predmet – poloprázdna nádoba</p>				
<p>Ťažký predmet – plná nádoba</p>				
<p>Záver:</p>				