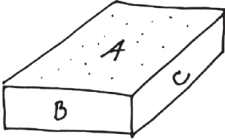
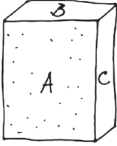
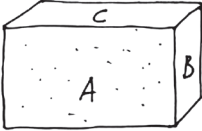


Úloha 24

Závisí veľkosť trecej sily od plochy, ktorou sa predmet dotýka povrchu, po ktorom sa kĺže? Použite rovnaký postup ako v predchádzajúcej úlohe. Hmotnosť predmetu musí zostať rovnaká, preto použite napríklad drevený kváder, ktorý budete pokladať na dosku rôzne veľkými stranami.

					
Predpoklad		Predpoklad		Predpoklad	
Overenie		Overenie		Overenie	
Záver:					