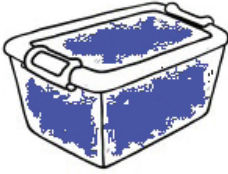
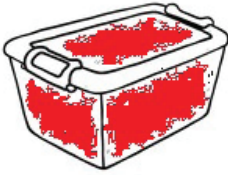






## Úloha 7

Prediskutujte v skupine, v ktorej nádobe sa roztopí ľad najrýchlejšie. Nádoby usporiadajte od tej, kde sa podľa vás roztopí najmenej ľadu (označte č. 1) až po tú, kde sa roztopí najviac ľadu (označte č. 5):

	Predpoklad	Overenie
 <p>Modrá</p>		
 <p>Červená</p>		
 <p>Biela</p>		
 <p>Čierna</p>		
 <p>Žltá</p>		

5. Zloženie Zeme a jej atmosféry; procesy, ktoré ovplyvňujú povrch Zeme a jej klímu

**Porovnajte svoje zistenia s predpokladmi a pokúste sa vytvoriť záver svojho skúmania:**

A large empty rectangular box with a thin black border, intended for students to write their conclusions and compare their findings with their initial assumptions.