






## Úloha 8

Popremýšľajte, či sa bude voda v rôznych nádobách vyparovať rovnako rýchlo. Ovplyvňuje podľa vás tvar pohára vyparovanie vody? Ak áno, ako? Svoje predpoklady zapíšte:

Usporiadajte poháre na obrázku (od 5 – 1) od tých, v ktorých sa podľa vás vyparí najviac vody (označte číslom 5) a v ktorých najmenej (číslo 1). Ak si myslíte, že sa bude voda vyparovať všade rovnako, označte všetky poháre rovnakým číslom.

	Predpoklad	Overenie
		
		
		
		
		

**Pokúste sa vytvoriť záver zo svojho skúmania:**

**5. Zloženie Zeme a jej atmosféry; procesy, ktoré ovplyvňujú povrch Zeme a jej klímu**

Myslíte si, že je možné zabrániť vyparovaniu vody v pohári? Ak nie, pokúste sa vysvetliť svoje tvrdenie. Ak áno, ako? Môžete si pomôcť nakreslením obrázka:

