





8. Organizmy sú závislé na príjme energie a látok, o ktoré súperia s inými organizmami








Úloha 5

Prezrite si rastliny v nasledujúcej tabuľke. Zakrúžkujte tie časti rastliny, ktoré je možné podľa vás konzumovať. Uveďte pri nich aj príklad ich konzumenta:

Rastlina	
 ruža	 jabloň
 tráva	 malina

8. Organizmy sú závislé na prijímaní energie a látok, o ktoré súperia s inými organizmami

Popremýšľajte, či ovocie a zelenina v tabuľke obsahuje semená alebo nie. Svoje predpoklady zaznačte a následne overte:

	Predpoklad	Overenie
 jablko		
 hrozno		
 mrkva		
 paprika		
 paradajka		
 cibuľa		
 brokolica		

8. Organizmy sú závislé na príjme energie a látok, o ktoré súperia s inými organizmami

Porozprávajte sa v skupine, aké ovocie a zeleninu ešte poznáte. Zapište ich do tabuľky pri tej časti, ktorú z nich konzumujeme. Ak ste si nie istí, o akú časť rastliny ide, vyhľadajte informácie na internete alebo v encyklopédii:

Stonka	
Listy	
Koreň	
Kvet	